



Tareas Miércoles 15 de abril 2020 Matemáticas

Hola Chicos/as, buenos días:


Primero quiero decirles que los ejercicios que colgué ayer sobre el tiempo los corregiremos el lunes durante la clase virtual y solucionaremos todas las dudas que tengáis.



El próximo miércoles 22 de Abril realizaremos el control de esta unidad. Ya os informaré de cómo lo haremos.

A continuación os autocorregiréis los ejercicios de ayer (en el documento 2) y hoy trabajaremos


LA ORIENTACIÓN EN EL PLANO: COORDENADAS pág. 137

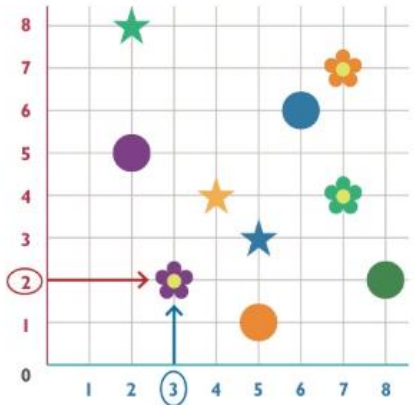
Observa cómo se expresa la posición de las figuras:



Para indicar la posición de , primero escribimos el número del eje azul: (3, ) .

Después, el número del eje rojo: (3, 2).

Las coordenadas de  son (3, 2).



Ahora quiero que miréis el siguiente video:

[Como siempre hay que escribir la dirección en el buscador](#)

Matemáticas | Orientación en la cuadrícula
(Para entender)

16423 Ubicación en cuadrícula Escenario (para practicar)